

МИНОБРНАУКИ РОССИИ

ВЛАДИВОСТОКСКИЙ ГОСУДАРСТВЕННЫЙ УНИВЕРСИТЕТ

КАФЕДРА ТРАНСПОРТНЫХ ПРОЦЕССОВ И ТЕХНОЛОГИЙ

Рабочая программа дисциплины (модуля)
ТЕОРЕТИЧЕСКАЯ МЕХАНИКА

Направление и направленность (профиль)
08.03.01 Строительство. Строительство

Год набора на ОПОП
2023

Форма обучения
очно-заочная

Владивосток 2024

Рабочая программа дисциплины (модуля) «Теоретическая механика» составлена в соответствии с требованиями ФГОС ВО по направлению подготовки 08.03.01 Строительство (утв. приказом Минобрнауки России от 31.05.2017г. №481) и Порядком организации и осуществления образовательной деятельности по образовательным программам высшего образования – программам бакалавриата, программам специалитета, программам магистратуры (утв. приказом Минобрнауки России от 06.04.2021 г. N245).

Составитель(и):

Городников О.А., старший преподаватель, Кафедра нефтегазового дела,
Gorodnikov.O@vvsu.ru

Утверждена на заседании кафедры транспортных процессов и технологий от
« ____ » _____ 20__ г. , протокол № _____

СОГЛАСОВАНО:

Заведующий кафедрой (разработчика)

Кузнецов П.А.

ДОКУМЕНТ ПОДПИСАН ЭЛЕКТРОННОЙ ПОДПИСЬЮ	
Сертификат	1576663924
Номер транзакции	000000000D426FE
Владелец	Кузнецов П.А.

1 Цель, планируемые результаты обучения по дисциплине (модулю)

Целями освоения дисциплины «Теоретическая механика» является формирование у студентов компетенций в области изучения общих законов движения и равновесия материальных тел в такой степени, чтобы они могли выбирать необходимые технические решения, уметь объяснить принципы их функционирования и правильно их использовать.

Основные задачи изучения дисциплины:

- формирование у студентов комплексных знаний и практических навыков в области Теоретической механики;
- развитие умений квалифицированного использования технических и технологических решений, применяемых в области, изучаемой в рамках данной дисциплины.

Планируемыми результатами обучения по дисциплине (модулю), являются знания, умения, навыки. Перечень планируемых результатов обучения по дисциплине (модулю), соотнесенных с планируемыми результатами освоения образовательной программы, представлен в таблице 1.

Таблица 1 – Компетенции, формируемые в результате изучения дисциплины (модуля)

Название ОПОП ВО, сокращенное	Код и формулировка компетенции	Код и формулировка индикатора достижения компетенции	Результаты обучения по дисциплине	
			Код результата	Формулировка результата
08.03.01 «Строительство» (Б-СТ)				

2 Место дисциплины (модуля) в структуре ОПОП

Дисциплина «Теоретическая механика» относится к базовой части ОПОП и предназначена для углубления освоения профессиональных дисциплин.

3. Объем дисциплины (модуля)

Объем дисциплины (модуля) в зачетных единицах с указанием количества академических часов, выделенных на контактную работу с обучающимися (по видам учебных занятий) и на самостоятельную работу, приведен в таблице 2.

Таблица 2 – Общая трудоемкость дисциплины

Название ОПОП ВО	Форма обучения	Часть УП	Семестр (ОФО) или курс (ЗФО, ОЗФО)	Трудоемкость (З.Е.)	Объем контактной работы (час)					СРС	Форма аттестации	
					Всего	Аудиторная			Внеаудиторная			
						лек.	прак.	лаб.	ПА			КСР
08.03.01 Строительство	ОЗФО	Б1.Б	2	4	17	8	8	0	1	0	127	Э

4 Структура и содержание дисциплины (модуля)

4.1 Структура дисциплины (модуля) для ОЗФО

Тематический план, отражающий содержание дисциплины (перечень разделов и тем),

структурированное по видам учебных занятий с указанием их объемов в соответствии с учебным планом, приведен в таблице 3.1

Таблица 3.1 – Разделы дисциплины (модуля), виды учебной деятельности и формы текущего контроля для ОЗФО

4.2 Содержание разделов и тем дисциплины (модуля) для ОЗФО

5 Методические указания для обучающихся по изучению и реализации дисциплины (модуля)

5.1 Методические рекомендации обучающимся по изучению дисциплины и по обеспечению самостоятельной работы

В ходе изучения данного курса студент слушает лекции по основным темам, посещает практические занятия, занимается индивидуально. Практические занятия предполагают, как индивидуальное, так и групповое выполнение поставленных задач, коллективное обсуждение полученных результатов.

Особое место в овладении данным курсом отводится самостоятельной работе по изучению литературы, электронных изданий, работе с библиотечными и поисковыми системами.

Начиная изучение дисциплины, студенту необходимо:

- ознакомиться с программой, изучить список рекомендуемой литературы;
- внимательно разобраться в структуре курса, в системе распределения учебного материала по видам занятий, формам контроля, чтобы иметь представление о курсе в целом;
- информационные технологии: Microsoft Office Professional Plus 2013 Russian.

5.2 Особенности организации обучения для лиц с ограниченными возможностями здоровья и инвалидов

При необходимости обучающимся из числа лиц с ограниченными возможностями здоровья и инвалидов (по заявлению обучающегося) предоставляется учебная информация в доступных формах с учетом их индивидуальных психофизических особенностей:

- для лиц с нарушениями зрения: в печатной форме увеличенным шрифтом; в форме электронного документа; индивидуальные консультации с привлечением тифлосурдопереводчика; индивидуальные задания, консультации и др.

- для лиц с нарушениями слуха: в печатной форме; в форме электронного документа; индивидуальные консультации с привлечением сурдопереводчика; индивидуальные задания, консультации и др.

- для лиц с нарушениями опорно-двигательного аппарата: в печатной форме; в форме электронного документа; индивидуальные задания, консультации и др.

6 Фонд оценочных средств для проведения текущего контроля и промежуточной аттестации обучающихся по дисциплине (модулю)

В соответствии с требованиями ФГОС ВО для аттестации обучающихся на соответствие их персональных достижений планируемым результатам обучения по дисциплине (модулю) созданы фонды оценочных средств. Типовые контрольные задания, методические материалы, определяющие процедуры оценивания знаний, умений и навыков, а также критерии и показатели, необходимые для оценки знаний, умений, навыков и характеризующие этапы формирования компетенций в процессе освоения образовательной программы, представлены в Приложении 1.

7 Учебно-методическое и информационное обеспечение дисциплины (модуля)

7.1 Основная литература

1. Белов М.И., Пылаев Б.В. Теоретическая механика : Учебное пособие [Электронный ресурс] : РИОР , 2020 - 336 - Режим доступа: <https://znanium.com/catalog/document?id=355661>
2. Жуковский Н. Е. ТЕОРЕТИЧЕСКАЯ МЕХАНИКА В 2 Т. ТОМ 1. Учебник для вузов [Электронный ресурс] , 2020 - 404 - Режим доступа: <https://urait.ru/book/teoreticheskaya-mehnika-v-2-t-tom-1-452932>
3. Сидоров, Д.Б. Лекции по теоретической механике: учеб. пособ. / Д.Б. Сидоров .— : [Б.и.], 2017 .— 120 с. — URL: <https://lib.rucont.ru/efd/652114> (дата обращения: 30.09.2024)
4. Славянович, В.Я. Теоретическая механика: Кинематика. Ч. 3 : для студентов технических специальностей / ред.: Г.М. Гузаиров, И.В. Игнатушина; В.Я. Славянович .— : [Б.и.], 2016 .— 59 с. : ил. — URL: <https://lib.rucont.ru/efd/575116> (дата обращения: 30.09.2024)

7.2 Дополнительная литература

1. Славянович, В.Я. Теоретическая механика: Кинематика. Ч. 2 : для студентов технических специальностей / ред.: Г.М. Гузаиров, И.В. Игнатушина; В.Я. Славянович .— : [Б.и.], 2016 .— 73 с. : ил. — URL: <https://lib.rucont.ru/efd/575115> (дата обращения: 30.09.2024)
2. Славянович, В.Я. Теоретическая механика: Кинематика. Ч. 3 : для студентов технических специальностей / ред.: Г.М. Гузаиров, И.В. Игнатушина; В.Я. Славянович .— : [Б.и.], 2016 .— 59 с. : ил. — URL: <https://lib.rucont.ru/efd/575116> (дата обращения: 30.09.2024)
3. Теоретическая механика : лабораторный практикум : направление подготовки 21.03.02 – Землеустройство и кадастры. Профиль подготовки «Городской кадастр». Бакалавриат / Л. М. Кульгина, А. Р. Закинян, Ю. Л. Смерек .— Ставрополь : изд-во СКФУ, 2015 .— 134 с. — Библиогр. в конце глав .— URL: <https://lib.rucont.ru/efd/314146> (дата обращения: 30.09.2024)
4. ЭБС "Университетская Библиотека Онлайн"

7.3 Ресурсы информационно-телекоммуникационной сети "Интернет", включая профессиональные базы данных и информационно-справочные системы (при необходимости):

1. ЭБС «Национальный цифровой ресурс «Руконт»: <https://rucont.ru>
2. Электронная библиотечная система ZNANIUM.COM - Режим доступа: <https://znanium.com/>
3. Электронно-библиотечная система "РУКОНТ"
4. Электронно-библиотечная система издательства "Юрайт" - Режим доступа: <https://urait.ru/>
5. Open Academic Journals Index (ОАИ). Профессиональная база данных - Режим доступа: <http://oaji.net/>
6. Президентская библиотека им. Б.Н.Ельцина (база данных различных профессиональных областей) - Режим доступа: <https://www.prlib.ru/>
7. Информационно-справочная система "Консультант Плюс" - Режим доступа: <http://www.consultant.ru/>

8 Материально-техническое обеспечение дисциплины (модуля) и перечень информационных технологий, используемых при осуществлении образовательного процесса по дисциплине (модулю), включая перечень программного обеспечения

Основное оборудование:

- "Стенд гидравлический универсальный ТМЖ-2М"

· Автоматизированный лабораторный комплекс "Детали машин- соединения с натягом"

Программное обеспечение:

- Autodesk Moldflow 2012 Russian
- Adobe Photoshop CS5 Russian

МИНОБРНАУКИ РОССИИ

ВЛАДИВОСТОКСКИЙ ГОСУДАРСТВЕННЫЙ УНИВЕРСИТЕТ

КАФЕДРА ТРАНСПОРТНЫХ ПРОЦЕССОВ И ТЕХНОЛОГИЙ

Фонд оценочных средств
для проведения текущего контроля
и промежуточной аттестации по дисциплине (модулю)

ТЕОРЕТИЧЕСКАЯ МЕХАНИКА

Направление и направленность (профиль)
08.03.01 Строительство

Год набора на ОПОП
2022

Форма обучения
очная

Владивосток 2023

1 Перечень формируемых компетенций

Название ОПОП ВО, сокращенное	Код и формулировка компетенции	Код и формулировка индикатора достижения компетенции
21.03.01 «Нефтегазовое дело» (Б-НД)	ОПК-4 : Способен проводить измерения и наблюдения, обрабатывать и представлять экспериментальные данные	ОПК-4.1к : сопоставляет технологию проведения типовых экспериментов на стандартном оборудовании в лаборатории и на производстве

Компетенция считается сформированной на данном этапе в случае, если полученные результаты обучения по дисциплине оценены положительно (диапазон критериев оценивания результатов обучения «зачтено», «удовлетворительно», «хорошо», «отлично»). В случае отсутствия положительной оценки компетенция на данном этапе считается несформированной.

2 Показатели оценивания планируемых результатов обучения

Компетенция ОПК-4 «Способен проводить измерения и наблюдения, обрабатывать и представлять экспериментальные данные»

Таблица 2.1 – Критерии оценки индикаторов достижения компетенции

Код и формулировка индикатора достижения компетенции	Результаты обучения по дисциплине			Критерии оценивания результатов обучения
	Код результата	Тип результата	Результат	
ОПК-4.1к : сопоставляет технологию проведения типовых экспериментов на стандартном оборудовании в лаборатории и на производстве	РД 1	Знание	реакций связей, условий равновесия плоской и пространственной системы сил, теории пар сил; кинематических характеристик точки, частных и общих случаев движения точки и твердого тела; дифференциальных уравнений движения точки; общих теорем динамики; теории удара	Сформировавшееся систематическое знание реакций связей, условий равновесия плоской и пространственной системы сил, теории пар сил; кинематических характеристик точки, частных и общих случаев движения точки и твердого тела; дифференциальных уравнений движения точки; общих теорем динамики; теории удара
	РД 2	Умение	использования математических методов и моделей в технических приложениях	Сформировавшееся систематическое умение использования математических методов и моделей в технических приложениях
	РД 3	Навык	владения методами математического анализа применительно к теоретической механике	Сформировавшиеся систематические навыки владения методами математического анализа применительно к теоретической механике

Таблица заполняется в соответствии с разделом 1 Рабочей программы дисциплины (модуля).

3 Перечень оценочных средств

Таблица 3 – Перечень оценочных средств по дисциплине (модулю)

Контролируемые планируемые результаты обучения		Контролируемые темы дисциплины	Наименование оценочного средства и представление его в ФОС	
			Текущий контроль	Промежуточная аттестация
Очная форма обучения				
РД1	Знание : реакций связей, условий равновесия плоской и пространственной системы сил, теории пар сил, кинематических характеристик точки, частных и общих случаев движения точки и твердого тела; дифференциальных уравнений движения точки; общих теорем динамики; теории удара	1.2. Кинематика точки и твердого тела	Тест	Экзамен в письменной форме
РД2	Умение : использования математических методов и моделей в технических приложениях	1.3. Динамика точки и механической системы	Тест	Экзамен в письменной форме
РД3	Навык : владения методами математического анализа применительно к теоретической механике	1.1. Статика плоской и пространственной систем сил	Тест	Экзамен в письменной форме
		1.4. Аналитическая механика	Тест	Экзамен в письменной форме

4 Описание процедуры оценивания

Качество сформированности компетенций на данном этапе оценивается по результатам текущих и промежуточных аттестаций при помощи количественной оценки, выраженной в баллах. Максимальная сумма баллов по дисциплине (модулю) равна 100 баллам.

Вид учебной деятельности	Оценочное средство			
	Тестирование	Практические задания	Итоговый экзамен	Итого
Лекции	20			20
Практические занятия		20		20
Самостоятельная работа	10	10		20
Промежуточная аттестация			40	40
Итого	30	30	40	100

Сумма баллов, набранных студентом по всем видам учебной деятельности в рамках дисциплины, переводится в оценку в соответствии с таблицей.

Сумма баллов по дисциплине	Оценка по промежуточной аттестации	Характеристика качества сформированности компетенции
от 91 до 100	«зачтено» / «отлично»	Студент демонстрирует сформированность дисциплинарных компетенций, обнаруживает всестороннее, систематическое и глубокое знание учебного материала, усвоил основную литературу и знаком с дополнительной литературой, рекомендованной программой, умеет свободно выполнять практические задания, предусмотренные программой, свободно оперирует приобретенными знаниями, умениями, применяет их в ситуациях повышенной сложности.
от 76 до 90	«зачтено» / «хорошо»	Студент демонстрирует сформированность дисциплинарных компетенций: основные знания, умения освоены, но допускаются незначительные ошибки, неточности, затруднения при аналитических операциях, переносе знаний и умений на новые, нестандартные ситуации.
от 61 до 75	«зачтено» / «удовлетворительно»	Студент демонстрирует сформированность дисциплинарных компетенций: в ходе контрольных мероприятий допускаются значительные ошибки, проявляется отсутствие отдельных знаний, умений, навыков по некоторым дисциплинарным компетенциям, студент испытывает значительные затруднения при оперировании знаниями и умениями при их переносе на новые ситуации.
от 41 до 60	«не зачтено» / «неудовлетворительно»	У студента не сформированы дисциплинарные компетенции, проявляется недостаточность знаний, умений, навыков.
от 0 до 40	«не зачтено» / «неудовлетворительно»	Дисциплинарные компетенции не сформированы. Проявляется полное или практически полное отсутствие знаний, умений, навыков.

5 Примерные оценочные средства

5.1 Примеры тестовых заданий

1. Статика – это раздел теоретической механики, который изучает:
 - a. механическое движение материальных твердых тел и их взаимодействие.
 - b. условия равновесия тел под действием сил.
 - c. движение тел как перемещение в пространстве; характеристики тел и причины, вызывающие движение, не рассматриваются.
 - d. движение тел под действием сил.

2. Сила – это:
 - a. векторная величина, характеризующая механическое взаимодействие тел между собой.
 - b. скалярная величина, характеризующая механическое взаимодействие тел между собой.
 - c. векторная величина, характеризующая динамическое взаимодействие тел между собой.
 - d. скалярная величина, характеризующая динамическое взаимодействие тел между собой.

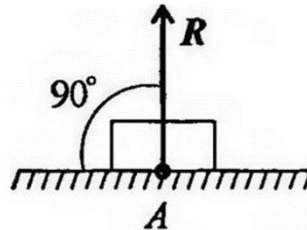
3. Единицей измерения силы является:
 - a. 1 Дж
 - b. 1 Па
 - c. 1 Н
 - d. 1 кг

4. ЛДС силы – это:
- прямая, перпендикулярно которой расположена сила
 - прямая, на которой лежит сила
 - луч, на котором лежит сила
 - луч, указывающий направление движения силы
5. Абсолютно твёрдое тело – это:
- физическое тело, размерами которого можно пренебречь, по сравнению с расстоянием на котором оно находится
 - условно принятое тело, размерами которого можно пренебречь, по сравнению с расстоянием на котором оно находится
 - физическое тело, которое не подвержено деформации
 - условно принятое тело, которое не подвержено деформации
6. Материальная точка - это:
- физическое тело, размерами которого можно пренебречь, по сравнению с расстоянием на котором оно находится
 - условно принятое тело, размерами которого можно пренебречь, по сравнению с расстоянием на котором оно находится
 - физическое тело, которое не подвержено деформации
 - условно принятое тело, которое не подвержено деформации
7. Равнодействующая сила – это:
- такая сила, которое оказывает на тело такое же действие, как и все силы, воздействующие на тело вместе взятые.
 - такая сила, которое оказывает на тело такое же действие, как и каждая из сил, воздействующих на тело.
 - такая система сил, которое оказывает на тело такое же действие, как и все силы, воздействующие на тело вместе взятые.
 - такая система сил, которое оказывает на тело такое же действие, как и каждая из сил, воздействующих на тело.
8. Уравновешивающая сила равна:
- по величине равнодействующей силе, но лежит на другой ЛДС.
 - по величине равнодействующей силе, лежит на другой ЛДС, но направлена в противоположную сторону.
 - по величине равнодействующей силе, лежит с ней на одной ЛДС, но направлена в противоположную сторону.
 - по величине и направлению равнодействующей силе, лежит с ней на одной ЛДС.
9. По формуле $\sqrt{F_1^2 + F_2^2 + 2 * F_1 * F_2 * \cos \alpha}$ определяют:
- величину уравновешивающей силы, от двух сил, действующих на одно тело.
 - величину равнодействующей силы, от двух сил, действующих на два разных тела.

- c. величину уравнивающей силы, от двух сил, действующих из одной точки на одно тело.
- d. величину равнодействующей силы, от двух сил, действующих из одной точки на одно тело.

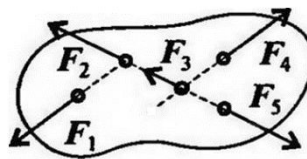
10. Тела, ограничивающие перемещение других тел, называют:

- a. реакциями
- b. опорами
- c. связями
- d. поверхностями



11. На рисунке представлен данный вид связи:

- a. в виде шероховатой поверхности
- b. в виде гибкой связи
- c. в виде гладкой поверхности
- d. в виде жесткой связи



12. При условии, что $F_1 = -|F_4|$, $F_2 = -|F_5|$, $F_3 \neq -|F_3|$, эти силы системы можно убрать, не нарушая механического состояния тела:

- a. F_1 и F_3
- b. F_2 и F_5
- c. F_1 и F_4
- d. F_3 и F_5

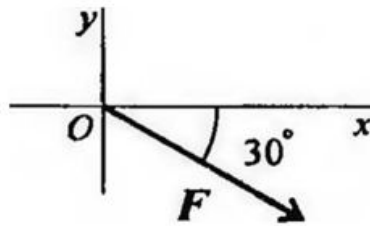
13. Плоской системой сходящихся сил называется:

- a. система сил, действующих на одно тело, ЛДС которых имеют одну общую точку.
- b. система сил, действующих на разные тела, ЛДС которых имеют одну общую точку.
- c. система сил, действующих на разные тела, ЛДС которых не имеют общих точек.
- d. система сил, действующих на одно тело, ЛДС которых не имеют общих точек.

14. Выражение для расчета проекции силы F на ось Oy для рисунка:

- a) $F_y = -F \cdot \cos 30^\circ$
- b) $F_y = F \cdot \cos 60^\circ$
- c) $F_y = -F \cdot \sin 30^\circ$

d) $F_y = -F \cdot \sin 60^\circ$



15. Пара сил оказывает на тело:

- a. отрицательное действие
- b. положительное действие
- c. вращающее действие
- d. изгибающее действие

16. Моментом силы относительно точки называется:

- a. произведение всех сил системы
- b. произведение силы на плечо
- c. отношение силы к расстоянию до точки
- d. отношение расстояния до точки к величине силы

17. Единицей измерения момента является:

- a. Н/м
- b. Н*м
- c. Па
- d. Н

18. Определите для рисунка, чему будет равен момент пары сил:

- a. 12 Нм
- b. 7 Нм
- c. - 12 Нм
- d. - 7 Нм



19. Единицей измерения сосредоточенной силы является:

- a. Н
- b. Нм
- c. Н/м
- d. Па

20. Единицей измерения распределённой силы является:

- a. Н

- b. Нм
- c. Н/м
- d. Па

21. Опора допускает поворот вокруг шарнира и перемещение вдоль опорной поверхности. Реакция направлена перпендикулярно опорной поверхности:

- a. шарнирная опора
- b. шарнирно-подвижная опора
- c. шарнирно-неподвижная опора
- d. защемление

22. Опора допускает поворот вокруг шарнира и может быть заменена двумя составляющими силы вдоль осей координат:

- a. шарнирная опора
- b. шарнирно-подвижная опора
- c. шарнирно-неподвижная опора
- d. защемление

23. Опора не допускает поворот вокруг шарнира и может быть заменена двумя составляющими силы вдоль осей координат:

- a. шарнирная опора
- b. шарнирно-подвижная опора
- c. шарнирно-неподвижная опора
- d. защемление

24. Пространственная система сил — это:

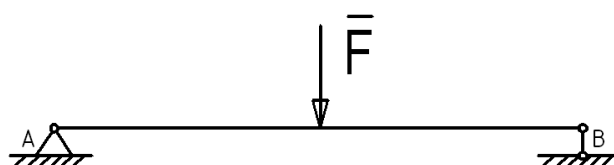
- a. система сил, линии действия которых лежат в одной плоскости.
- b. система сил, линии действия которых не лежат в одной плоскости.
- c. система сил, линии действия которых перпендикулярны плоскости.
- d. система сил, линии действия которых параллельны плоскости.

25. Центр тяжести параллелепипеда находится:

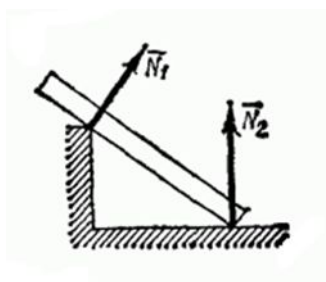
- a. на одной из граней фигуры
- b. на середине низовой грани фигуры
- c. на пересечении диагоналей фигуры
- d. на середине перпендикуляра, опущенного из середины верхней грани фигуры

26. Центр тяжести конуса находится:

- a. на одной из граней фигуры
- b. на середине низовой грани фигуры
- c. на $1/3$ высоты от основания фигуры
- d. на середине перпендикуляра, опущенного из середины верхней грани фигуры



27. Кинематика – это раздел теоретической механики, который изучает:
- механическое движение материальных твердых тел и их взаимодействие.
 - условия равновесия тел под действием сил.
 - движение тел как перемещение в пространстве; характеристики тел и причины, вызывающие движение, не рассматриваются.
 - движение тел под действием сил.
28. Динамика – это раздел теоретической механики, который изучает:
- механическое движение материальных твердых тел и их взаимодействие.
 - условия равновесия тел под действием сил.
 - движение тел как перемещение в пространстве; характеристики тел и причины, вызывающие движение, не рассматриваются.
 - движение тел под действием сил.
29. Статика – это раздел теоретической механики, который изучает:
- общие законы равновесия материальных точек и твердых тел и их взаимодействие.
 - условия равновесия тел под действием внутренних сил.
 - равновесие тел как перемещение в пространстве; характеристики тел и причины, вызывающие движение, не рассматриваются.
 - движение тел под действием сил.
30. На рисунке представлен данный вид связи:
- в виде наклонной поверхности
 - в виде точечной опоры относительно бруса
 - в виде точечной опоры на гладкой поверхности
 - в виде ребра двухгранного угла



Краткие методические указания

Тестовые задания предусматривают выбор правильного ответа. Оценивается правильность ответов, указывающая на остаточные знания пройденного учебного материала. При ответах на вопросы студенты не должны пользоваться электронными устройствами.

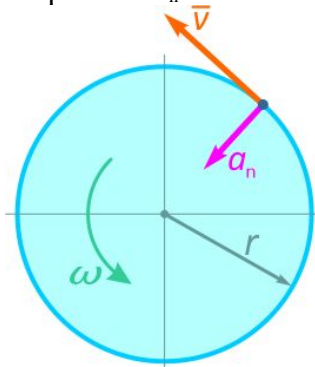
Шкала оценки

№	Баллы	Описание
5	25-30	Сформировавшееся систематическое знание реакций связей, условий равновесия плоской и пространственной системы сил, теории пар сил; кинематических характеристик точки, частных и общих случаев движения точки и твердого тела

4	19-24	В целом сформировавшееся знание реакций связей, условий равновесия плоской и пространственной системы сил, теории пар сил; кинематических характеристик точки, частных и общих случаев движения точки и твердого тела
3	13-18	Неполное знание реакций связей, условий равновесия плоской и пространственной системы сил, теории пар сил; кинематических характеристик точки, частных и общих случаев движения точки и твердого тела
2	7-12	Фрагментарное знание реакций связей, условий равновесия плоской и пространственной системы сил, теории пар сил; кинематических характеристик точки, частных и общих случаев движения точки и твердого тела
1	0-6	Отсутствие знаний реакций связей, условий равновесия плоской и пространственной системы сил, теории пар сил; кинематических характеристик точки, частных и общих случаев движения точки и твердого тела

5.2 Примеры заданий для выполнения практических работ

Задача 1. Точка, лежащая на ободу равномерно вращающегося диска, движется со скоростью $v=1,6$ м/с и нормальным ускорением $a_n=8$ м/с².



Требуется определить радиус диска r и величину его угловой скорости ω .

Задача 2. Даны уравнения движения точки М:

$$x = 3 \cos \frac{2}{3} \pi t + 3, \quad \text{см};$$

$$y = 2 \sin \frac{2}{3} \pi t - 2, \quad \text{см}.$$

Требуется определить вид траектории и в момент времени $t=1$ с найти скорость точки, полное, касательное, нормальное ускорения и радиус кривизны траектории в данной точке.

Краткие методические указания

Для того, чтобы подготовиться к практическому занятию, сначала следует ознакомиться с соответствующим текстом учебника (лекции). Подготовка к практическому занятию начинается после изучения задания и подбора соответствующих литературы и нормативных источников. Работа с литературой может состоять из трёх этапов - чтение, конспектирование и заключительное обобщение сути изучаемой работы. Подготовка к практическим занятиям, подразумевает активное использование справочной литературы (энциклопедий, словарей, альбомов схем и др.) и периодических изданий. Владение понятийным аппаратом изучаемого курса является необходимостью.

Выполненная работа должна быть оформлена в письменном виде и представлена в виде доклада на практическом занятии.

Шкала оценки

№	Баллы по	Описание
---	----------	----------

	результатам итоговой оценки	
отлично	25-30	Обучающийся показывает высокий уровень знаний при выполнении заданий
хорошо	19-24	Обучающийся показывает хороший уровень знаний при выполнении заданий
удовлетворительно	13-18	Обучающийся показывает средний уровень знаний при выполнении заданий
плохо	7-12	Обучающийся показывает низкий уровень знаний при выполнении заданий
неудовлетворительно	0-6	Обучающийся не продемонстрировал знаний по теме при выполнении заданий.

5.3 Вопросы к экзамену

1. Как называют замену одной системы сил другой, более простой, но оказывающей на одно и то же тело одинаковое действие (такие системы сил называются эквивалентными)?

2. При стремлении сдвинуть одно тело по поверхности другого в касательной плоскости поверхностей этих тел возникают силы, препятствующие движению, как называют это явление?


3. Как называется абсолютно твердое тело, размерами которого можно пренебречь?

4. Каким методом удобно пользоваться для определения усилий в отдельных стержнях фермы, в частности, для проверочных расчетов?

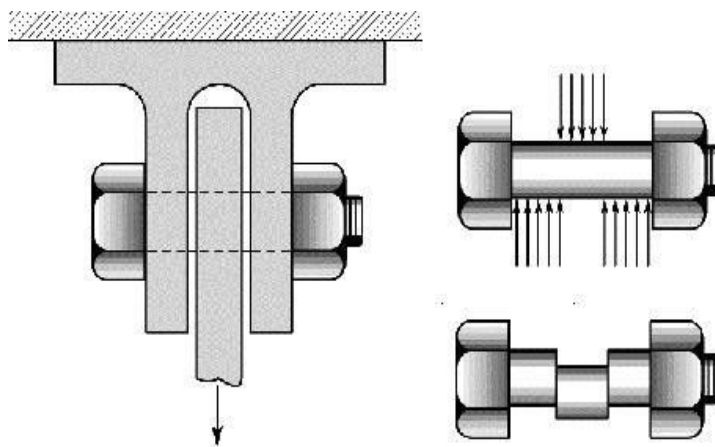
5. Трение, когда между поверхностями соприкасающихся тел нет смазывающего вещества, называется?

6. _____ сила равна сумме проекций всех сил (активных и реактивных), действующих на любую из частей рассеченного стержня, на ось z;

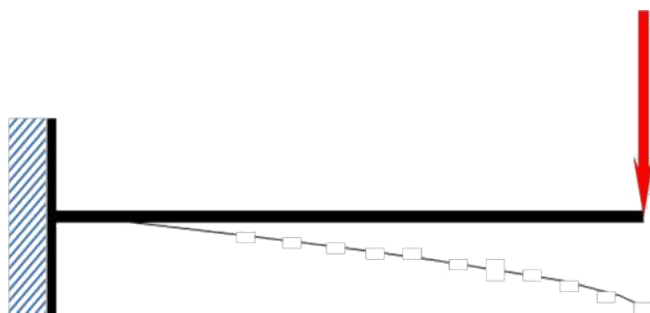
7. Вид деформации называется _____



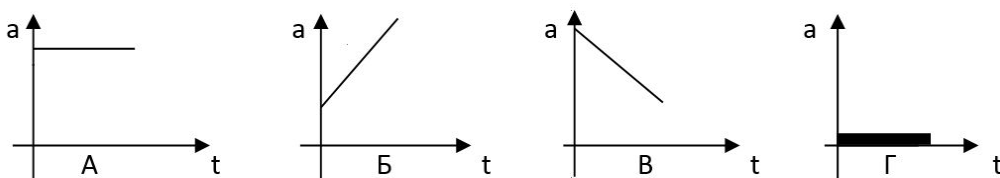
8. Болт испытывает деформацию _____



9. Вид деформации называется _____



10. Тело, у которого остаточная деформация равна нулю называется _____
11. Движение, при котором все точки тела движутся одинаково: с одинаковой скоростью, совершая одинаковое перемещение называется _____.
12. Способность элементов конструкций сопротивляться внешним нагрузкам, не разрушаясь это ...
13. Изменение под действием внешних сил взаимного расположения частиц тела, приводящее к изменению его формы и размеров (при постоянном объеме) это ...
14. Если после снятия нагрузки форма и размеры бруса полностью восстанавливаются, то имеют место деформации _____
15. Алгебраическая разность между предельным и соответствующим номинальным размерами. Различают верхнее и нижнее предельные отклонения это...
16. Характер соединения двух деталей, определяемый разностью их размеров до сборки это...
17. Науку о методах расчета элементов конструкций на прочность, жесткость и устойчивость называют _____
18. Что такое тип простой деформации бруса, при котором в его поперечных сечениях из внутренних силовых факторов действуют только силы в плоских сечениях?
19. Как называют стержни круглого или кольцевого сечения, работающие на кручение?
20. На рисунке изображены графики зависимости ускорения от времени для разных движений. Какой из них соответствует равномерному движению?



Краткие методические указания

Экзамен в устной форме проводится как контроль знаний, которыми обладает студент, на темы, связанные с изучаемой дисциплиной, рассчитанный на выяснение объема знаний студента по определенному разделу, теме, проблеме и т.п. Уровень усвоения материала проверяется посредством оценивания полноты ответа студента по разделам дисциплины в соответствии с контрольными вопросами.

Шкала оценки

№	Баллы	Описание
5	33–40	Сформировавшееся систематическое знание реакций связей, условий равновесия плоской и пространственной системы сил, теории пар сил; кинематических характеристик точки, частных и общих случаев движения точки и твердого тела
4	25–32	В целом сформировавшееся знание реакций связей, условий равновесия плоской и пространственной системы сил, теории пар сил; кинематических характеристик точки, частных и общих случаев движения точки и твердого тела
3	17–24	Неполное знание реакций связей, условий равновесия плоской и пространственной

		системы сил, теории пар сил; кинематических характеристик точки, частных и общих случаев движения точки и твердого тела
2	9-16	Фрагментарное знание реакций связей, условий равновесия плоской и пространственной системы сил, теории пар сил; кинематических характеристик точки, частных и общих случаев движения точки и твердого тела
1	0-8	Отсутствие знаний реакций связей, условий равновесия плоской и пространственной системы сил, теории пар сил; кинематических характеристик точки, частных и общих случаев движения точки и твердого тела